






1. Combien y a-t-il de  sur la première ligne ?  
 A. 2                      B. 3                      C. 4                      D. 5                      E. 6
2. Combien y a-t-il de  sur l'avant dernière ligne ?  
 A. 2                      B. 3                      C. 4                      D. 5                      E. 6
3. Combien y a-t-il de  sur les lignes 6, 7 et 8 ?  
 A. 4                      B. 5                      C. 6                      D. 7                      E. 8
4. Combien y a-t-il de couples de symboles identiques sur la ligne 2 ?  
 A. 1                      B. 2                      C. 3                      D. 4                      E. 5
5. Combien y a-t-il de triplet de symboles identiques sur la totalité du texte ?  
 A. 4                      B. 5                      C. 6                      D. 7                      E. 8
6. Combien y a-t-il de   dans le texte ?  
 A. 3                      B. 4                      C. 5                      D. 6                      E. 7

# Réponses

1. 3
2. 3
3. 6
4. 2
5. 4
6. 6