





1. Combien y a-t-il de  sur la première ligne ?
 A. 4 B. 5 C. 6 D. 7 E. 8
2. Combien y a-t-il de  sur l'avant dernière ligne ?
 A. 0 B. 1 C. 2 D. 3 E. 4
3. Combien y a-t-il de  sur les lignes 6, 7 et 8 ?
 A. 10 B. 11 C. 12 D. 13 E. 14
4. Combien y a-t-il de couples de symboles identiques sur la ligne 5 ?
 A. 3 B. 4 C. 5 D. 6 E. 7
5. Combien y a-t-il de triplet de symboles identiques sur la totalité du texte ?
 A. 0 B. 1 C. 2 D. 3 E. 4
6. Combien y a-t-il de  dans le texte ?
 A. 8 B. 9 C. 10 D. 11 E. 12

Réponses

1. 5
2. 3
3. 10
4. 3
5. 1
6. 8